

**Quelles sont les grandes puissances européennes au XVIII<sup>e</sup> siècle et leurs moyens de domination ?**

**I. D'après Nantes, quelles sont les grandes puissances européennes ?**

**A. Nantes est-elle une ville riche et puissante ?**

J'affirme l'idée principale

---

---

---

---

J'explique

---

---

---

---

---

---

---

---

Je prouve par un exemple précis

---

---

---

---

---

---

---

---

**Armateur** : Personne qui s'occupe de l'exploitation commerciale d'un navire.

**B. Quelles sont les grandes puissances européennes au XVIII<sup>e</sup> siècle et dans quels domaines ?**

Selon toi, quelle carte permet le mieux de répondre à la problématique et pourquoi ?

---

---

---

---

---

---

---

---

Au début du XVIII<sup>e</sup> siècle, plusieurs puissances s'imposent en Europe. En effet, la France, le Royaume-Uni et la Hollande sont les principales puissances grâce notamment à leur contrôle des océans. L'Autriche, la Prusse et la Russie s'affirment également mais restent des puissances continentales (qui ne dominent pas sur les mers). L'Espagne et le Portugal sont sur le déclin. Par exemple, les façades des immeubles des armateurs nantais prouvent la grande richesse des marchands français.

**Puissance** : Un Etat capable d'exercer une influence sur d'autres Etats dans les domaines militaires, politique, économique et culturel.

Voir livre p.14

Hôtel Durbé, quai de la Fosse, à Nantes, 1756



Zoom



Mascaron (ornement de façade représentant une figure humaine)

**II. D'après Nantes, qu'est-ce qui explique la puissance de ces pays européens ?**

**A. La puissance nantaise provient-elle de son commerce d'esclave ?**

J'affirme l'idée principale

---

---

---

---

J'explique

---

---

---

---

---

---

---

---

Je prouve par un exemple précis

---

---

---

---

---

---

---

---

**B. Comment s'organise la traite négrière, source de puissance en Europe ?**

La source de richesse de l'Europe est le grand commerce maritime entre l'Europe, l'Afrique, l'Amérique et l'Asie et plus particulièrement la traite négrière.

En effet, les pays européens font du commerce principalement avec leur colonie, importants des produits tropicaux comme le sucre, le cacao, les épices, le coton et la soie. (Voir carte 4 p.15)

Partis de ports européens, chargés de marchandises (textiles, armes, bijoux peu précieux) les navires partent vers l'Afrique. En Afrique, les marchands européens échangent leurs marchandises contre des esclaves. Les navires européens transportent ensuite ces esclaves, dans des conditions épouvantables, vers l'Amérique. Les esclaves sont alors vendus pour travailler dans les plantations. Puis les navires rejoignent l'Europe chargés de produits tropicaux (cacao, sucre, coton...). C'est le commerce triangulaire. (Voir carte 4 p.37)

Par exemple, le film Amistad démontre l'horreur des conditions de transport des esclaves noirs.

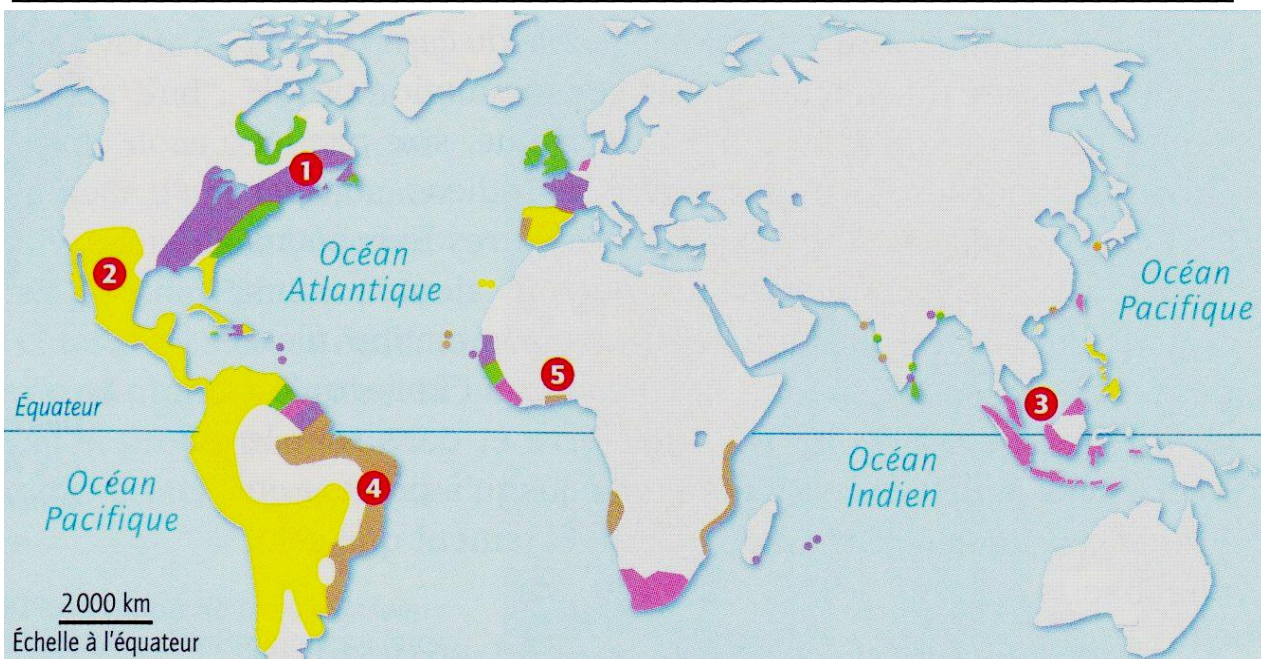
**Commerce triangulaire** : Commerce des esclaves et produits coloniaux pratiqué entre l'Europe, l'Afrique et les Amériques.

Petit rappel de 5<sup>e</sup> : la traite négrière existe également entre depuis le VIII<sup>e</sup> entre l'Afrique et le monde musulman. C'est la traite orientale.

Voir livre p.36

Tu dois résumer le cours à l'aide de cette carte (complète le TOLE)

**I. Les grandes puissances européennes et leurs possessions**

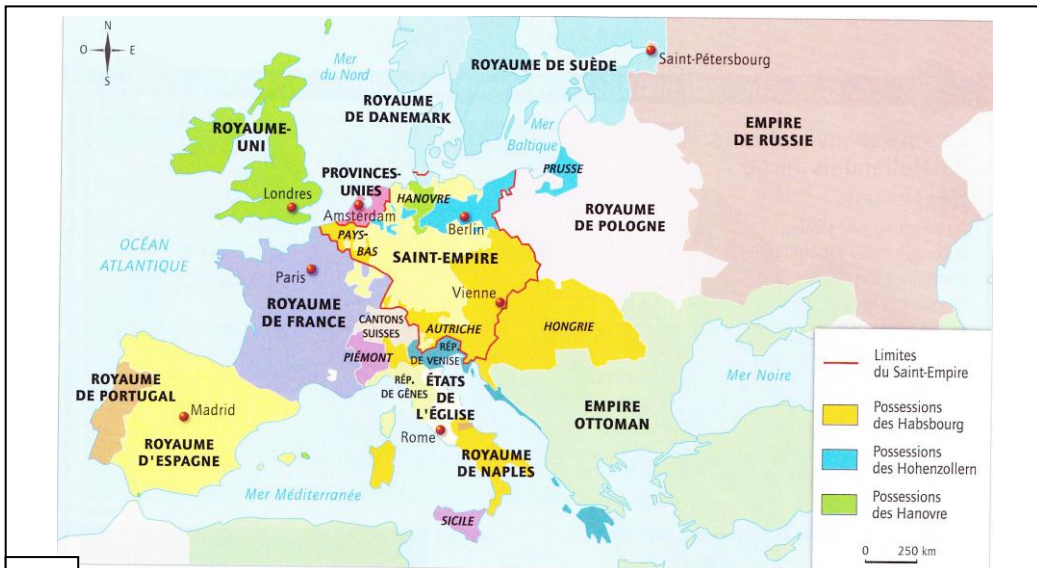


1. Nouvelle France / 2. Nouvelle Espagne / 3. Indes Orientales / 4. Brésil / 5. Guinée

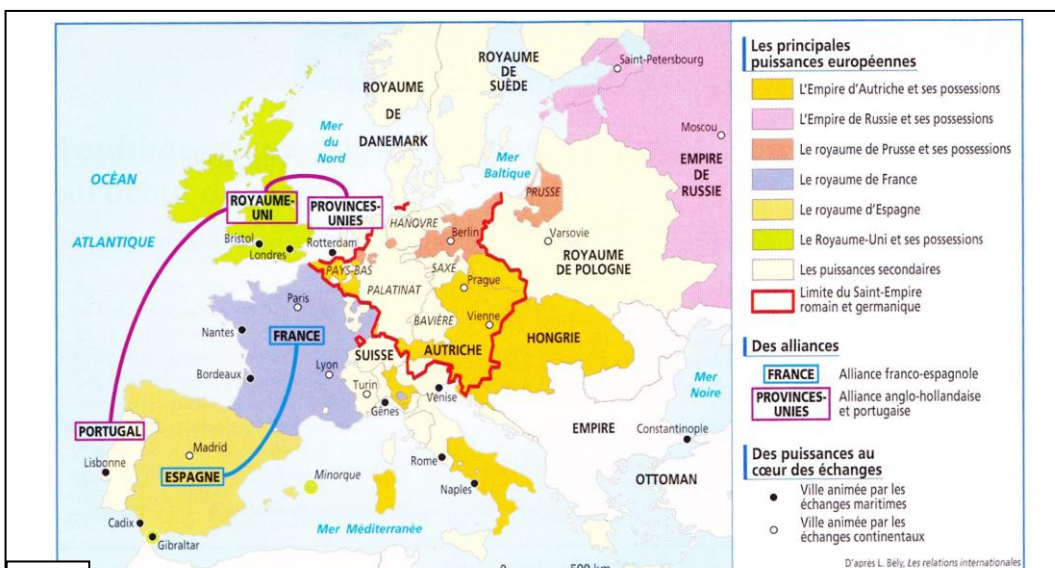
**II. Une source de leur puissance : le commerce maritime**

# H1 Fiche n°1 / Quelles sont les grandes puissances européennes au XVIII<sup>e</sup> siècle et dans quels domaines ?

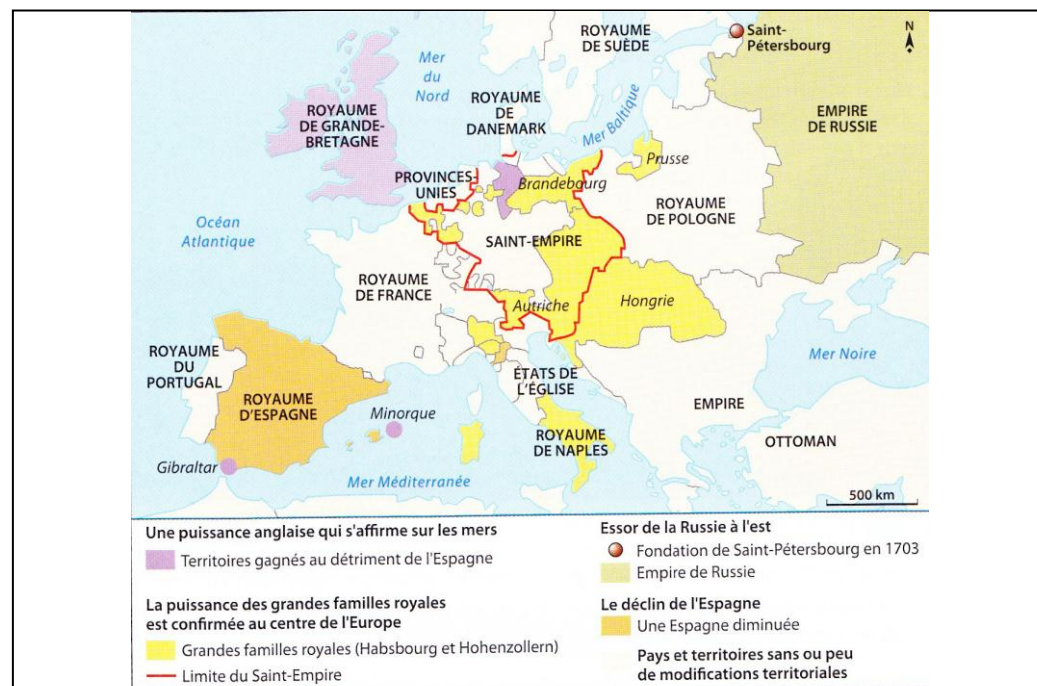
Selon toi, quelle carte permet le mieux de répondre à la problématique et pourquoi ? Au brouillon, indique les avantages et les inconvénients de chaque carte, puis indique ta réponse au crayon de papier sur la fiche de cours.



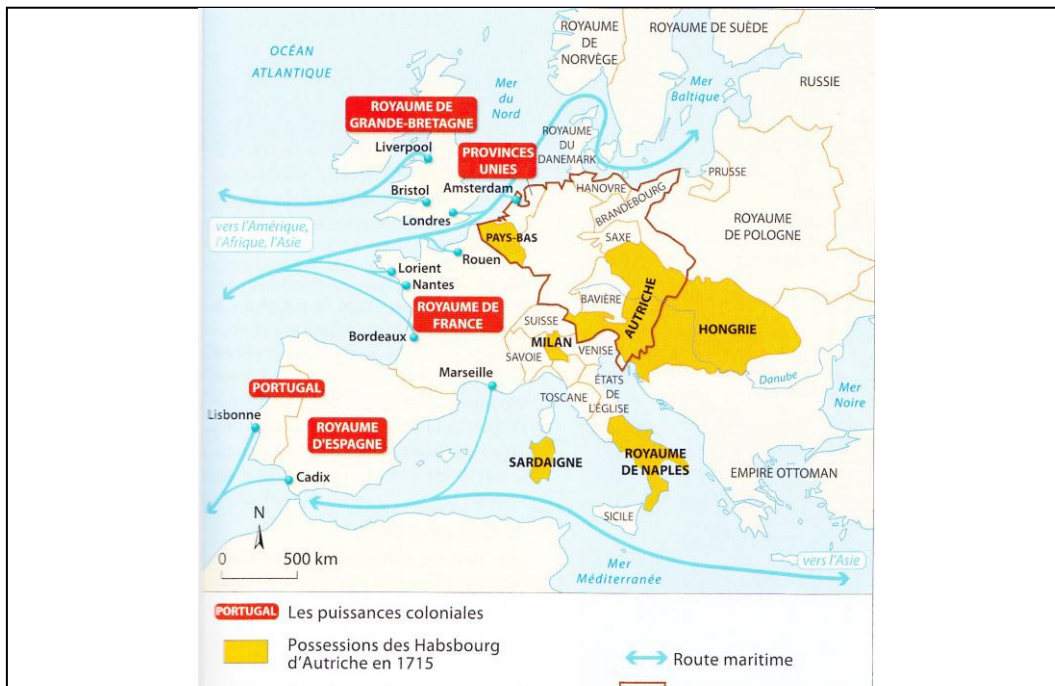
1 Les grandes puissances en Europe au début du XVIII<sup>e</sup> siècle (1715)



2 Les grandes puissances politiques européennes en 1713.



3 L'Europe après la signature du traité d'Utrecht en 1713.

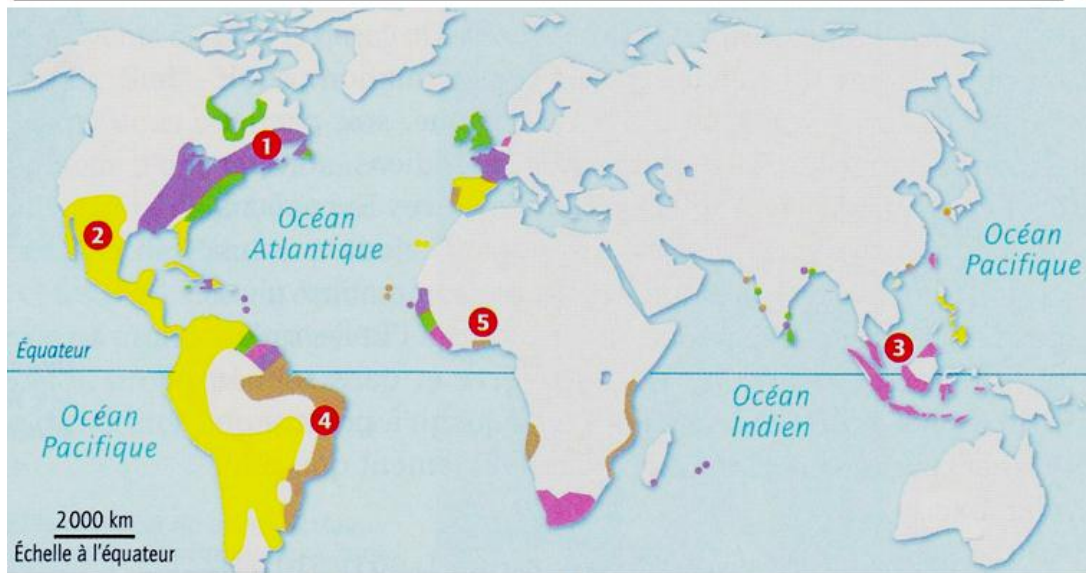


4 Les puissances européennes au début du XVIII<sup>e</sup> siècle

## Petite aide

### Quelles sont les grandes puissances européennes et leurs moyens de puissance ?

Tu dois résumer le cours à l'aide de cette carte (complète le TOLE)



1. Nouvelle France / 2. Nouvelle Espagne / 3. Indes Orientales / 4. Brésil / 5. Guinée

Tous les éléments du TOLE (titre, orientation, légende, échelle) sont-ils représentés ?

#### I. Les grandes puissances européennes et leurs possessions

Quelles sont les 3 grandes puissances maritimes européennes ?  
Quelles sont les 2 puissances maritimes européennes sur le déclin ?  
Comment les différencier et les représenter ? Comment représenter leurs possessions coloniales ?

#### II. Une source de leur puissance : le commerce maritime

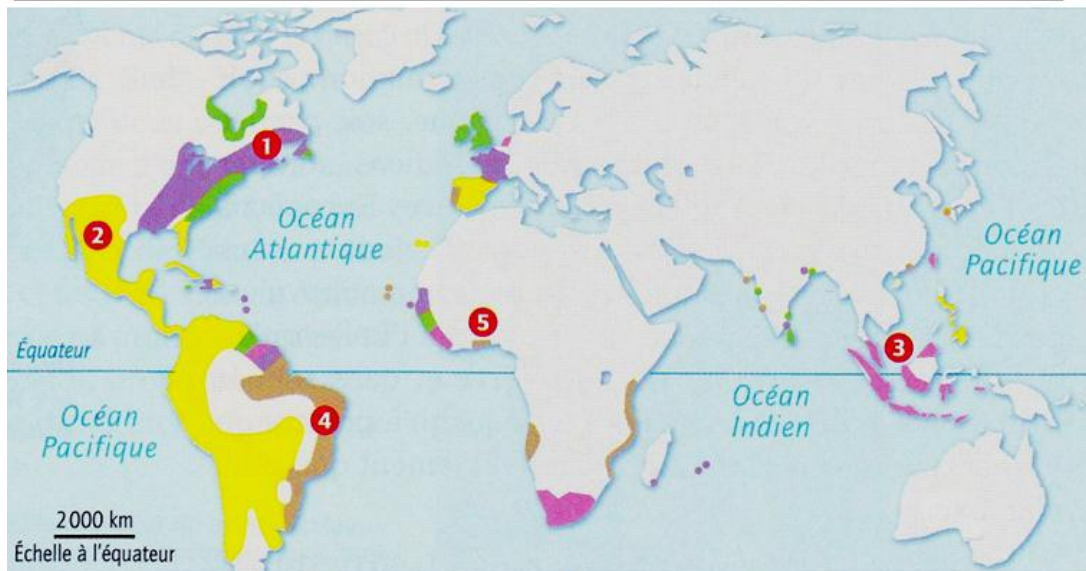
Quels sont les différents types de produits échangés entre les puissances et leurs colonies ? Comment les représenter ?

Comment se nomme le commerce entre l'Europe, l'Afrique et l'Amérique du Nord ? Comment les représenter ?

## Petite aide

### Quelles sont les grandes puissances européennes et leurs moyens de puissance ?

Tu dois résumer le cours à l'aide de cette carte (complète le TOLE)



1. Nouvelle France / 2. Nouvelle Espagne / 3. Indes Orientales / 4. Brésil / 5. Guinée

Tous les éléments du TOLE (titre, orientation, légende, échelle) sont-ils représentés ?

#### I. Les grandes puissances européennes et leurs possessions

Quelles sont les 3 grandes puissances maritimes européennes ?  
Quelles sont les 2 puissances maritimes européennes sur le déclin ?  
Comment les différencier et les représenter ? Comment représenter leurs possessions coloniales ?

#### II. Une source de leur puissance : le commerce maritime

Quels sont les différents types de produits échangés entre les puissances et leurs colonies ? Comment les représenter ?

Comment se nomme le commerce entre l'Europe, l'Afrique et l'Amérique du Nord ? Comment les représenter ?