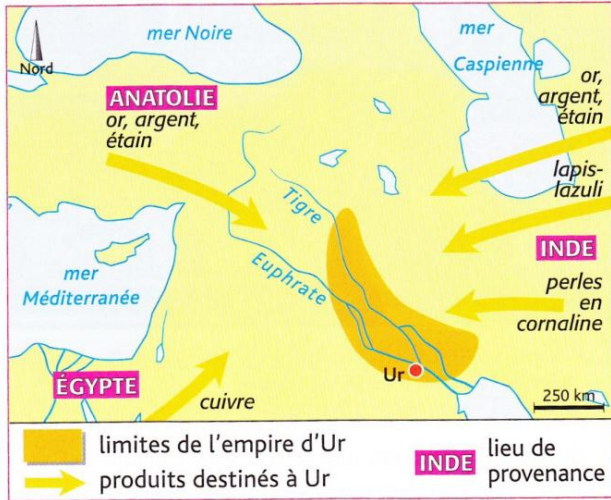


Que nous apprend la cité d'Ur sur l'apparition des 1^{ers} Etats ?

A. _____

D'après le cas d'Ur, pourquoi les premières cités-Etats apparaissent dans la région de la Mésopotamie ?



Doc 1 Les richesses de la Mésopotamie.

Tu remplis le canal d'une eau perpétuelle. Tu cultives l'orge dans le champ. Tu remplis l'étang de carpes et de perches. Tu fais pousser roseaux et joncs dans le marais. Tu peuples la forêt de vaches sauvages. Tu garnis les jardins et le verger de miel et de vin. Et tu accorderas au palais royal une vie prolongée.

D'après un chant en l'honneur de Ninurta, dieu de l'agriculture fin du III^e millénaire avant J-C

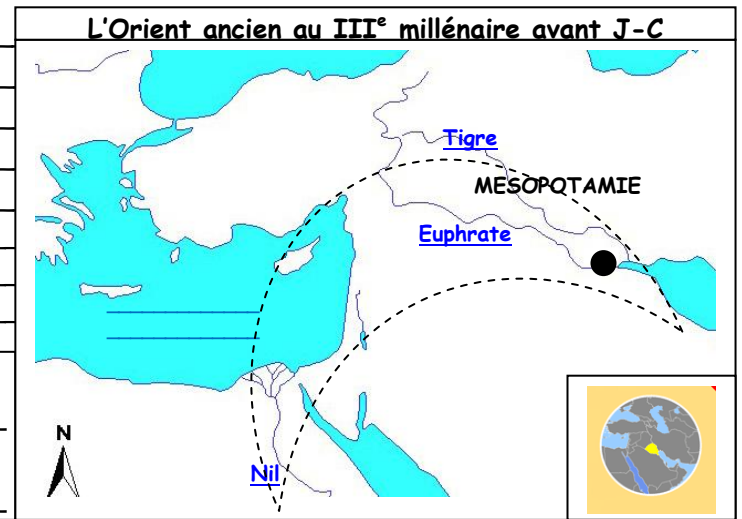
2 Le commerce de la cité d'Ur au III^e millénaire avant J.-C.

1. L'empire d'Ur se limite-t-il à la seule ville d'Ur ? Justifie ta réponse (= donne des preuves, explique pourquoi). (Doc 2 sur la feuille)

2. Montre que la cité d'Ur se trouve dans une région agricole très riche. (Doc 1 sur la feuille)

3. Montre que la cité d'Ur est au cœur des routes commerciales de la région. (doc 2 sur la feuille)

Réponse à la problématique (le cours) : _____



Légende	
MESOPOTAMIE	_____
Tigre	_____
Mer	_____

B. _____

D'après le cas d'Ur, comment s'organise la société des premières cités-Etats de Mésopotamie ?

1. Par qui l'empire d'Ur est-il gouverné (donne son titre) ? De qui détient-il son pouvoir ? (doc 4 p.17 du livre)

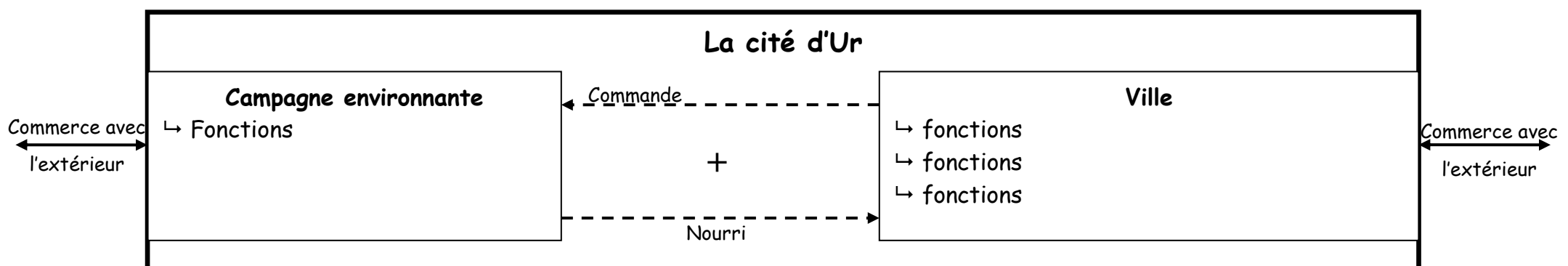
2. L'empire d'Ur est l'un des premiers Etats à maîtriser l'écriture. A ton avis, quel est l'intérêt du roi Ur-Nammu de faire inscrire cet hymne (doc 4 p.17 du livre) ?

3. Complète le tableau ci-dessous à l'aide du doc 3 p. 17 du livre et des questions préalables.

Fonction	A quelle construction est-elle associée ?	Pour qui ?
Politique (un dirigeant)		
Religieuse (des croyances)		

Réponse à la problématique (le cours) : _____

Pour résumé



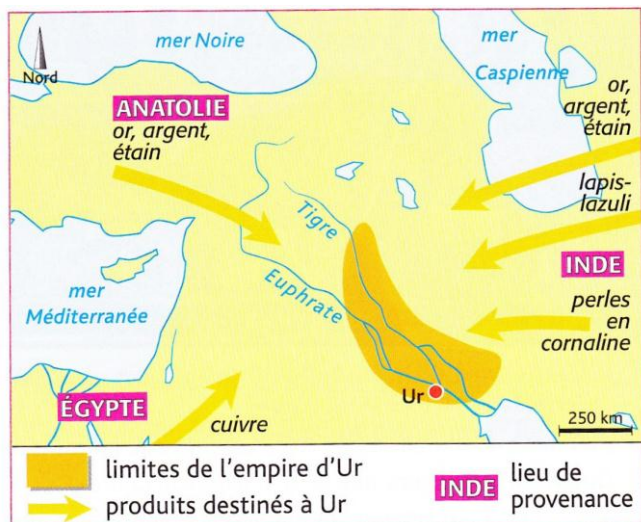
Surligne en vert, les éléments qui montrent que la cité d'Ur est _____

Surligne en rouge, les éléments qui montrent que la cité d'Ur _____

Que nous apprend la cité d'Ur sur l'apparition des 1^{ers} Etats ?

A. Ur : une cité-Etat au cœur d'une riche région

D'après le cas d'Ur, pourquoi les premières cités-Etats apparaissent dans la région de la Mésopotamie ?



Doc 1 Les richesses de la Mésopotamie.

Tu remplis le canal d'une eau perpétuelle. Tu cultives l'orge dans le champ. Tu remplis l'étang de carpes et de perches. Tu fais pousser roseaux et joncs dans le marais. Tu peuples la forêt de vaches sauvages. Tu garnis les jardins et le verger de miel et de vin. Et tu accorderas au palais royal une vie prolongée. D'après un chant en l'honneur de Ninurta, dieu de l'agriculture fin du III^e millénaire avant J-C

2 Le commerce de la cité d'Ur au III^e millénaire avant J.-C.

1. L'empire d'Ur se limite-t-il à la seule ville d'Ur ? Justifie ta réponse (= donne des preuves, explique pourquoi). (Doc 2 sur la feuille)

Non la cité d'Ur ne se limite pas à la seule ville d'Ur. Elle comprend également un vaste territoire autour de la cité.

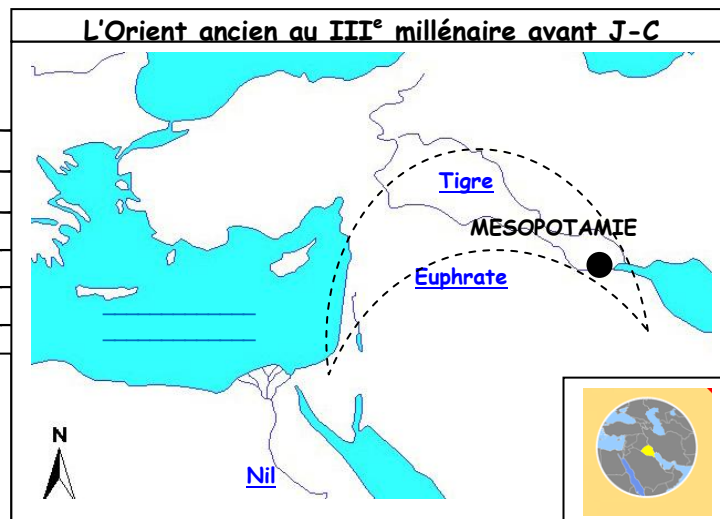
2. Montre que la cité d'Ur se trouve dans une région agricole très riche. (Doc 1 sur la feuille)

La région de la cité d'Ur est une région agricole très riche puisque le texte parle de nombreuses cultures comme l'orge, les roseaux, mais aussi d'animaux comme les vaches et les poissons.

3. Montre que la cité d'Ur est au cœur des routes commerciales de la région. (doc 2 sur la feuille)

La cité d'Ur est au cœur des routes commerciales de la région puisque de nombreux produits y arrivent et sont échangés.

Cours : **Mots importants** : cité-Etat, région agricole riche entre les fleuves Tigre et Euphrate, le croissant fertile, Mésopotamie, axe commercial important



MESOPOTAMIE	Région	Légende	Croissant Fertile
Tigre	Fleuve		
Mer Méditerranée	Mer		

B. Ur : une société organisée

D'après le cas d'Ur, comment s'organise la société des premières cités-Etats de Mésopotamie ?

1. Par qui l'empire d'Ur est-il gouverné (donne son titre) ? De qui détient-il son pouvoir ? (doc 4 p.17 du livre)

Ur est gouverné par un roi qui détient son pouvoir des dieux.

2. L'empire d'Ur est l'un des premiers Etats à maîtriser l'écriture. A ton avis, quel est l'intérêt du roi Ur-Nammu de faire inscrire cet hymne (doc 4 p.17 du livre) ?

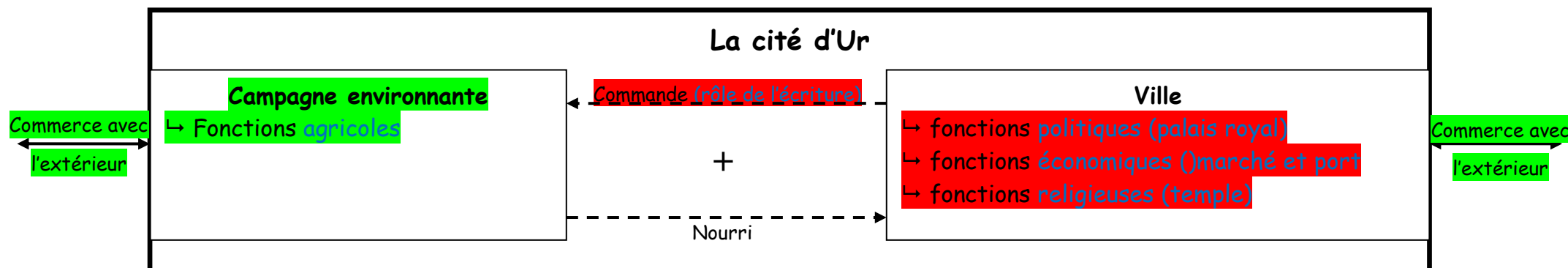
Inscrire cet hymne permet au roi Ur-Nammu de diffuser cet hymne et donc de se renforcer son pouvoir.

3. Complète le tableau ci-dessous à l'aide du doc 3 p.17 du livre et des questions préalables.

Fonction	A quelle construction est-elle associée ?	Pour qui ?
Politique (un dirigeant)	Palais royal (Ziggourat)	Le roi
Religieuse (des croyances)	Temple	Les dieux

Cours : **Mots importants** : une monarchie, polythéiste et sa définition, écriture

Pour résumé



Surligne en vert, les éléments qui montrent que la cité d'Ur est au cœur d'une région riche

Surligne en rouge, les éléments qui montrent que la cité d'Ur comprend une société organisée