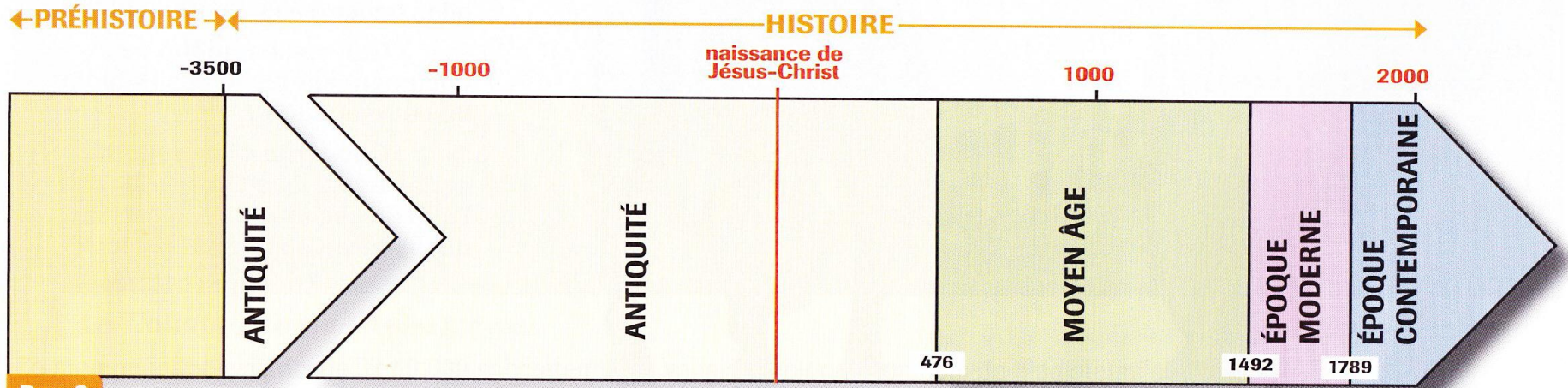


# H1 L'Orient ancien : la Mésopotamie au III<sup>e</sup> millénaire avant J-C



# H0/ Le programme d'histoire de 6<sup>e</sup> : frise chronologique

A chaque début de nouveau chapitre d'histoire, complète cette frise en indiquant dans la case appropriée le nom du chapitre.



This section contains a form for completing the timeline. A pink double-headed arrow labeled 'période étudiée en 6<sup>e</sup>' spans from the start of the timeline to the year 1000. Below this arrow, there are five rectangular boxes with dashed lines inside, intended for writing chapter names. To the left of these boxes is a blue arrow pointing to the right, labeled 'L'Orient ancien', which is positioned to cover the 'ANTIQUITÉ' period of the timeline above.

# Vidéo le sacre de l'homme

Pourquoi le personnage est-il surpris ?

Quels étaient alors les modes de vie des hommes ?

Que font ces cités par rapport aux campagnes alentours ?



A votre avis, quelle question cela peut-il nous poser ? A quelle question/problématique allons-nous essayer de répondre pendant ce chapitre ?

Vers 3500 avant J-C, les premières villes apparaissent en Mésopotamie. Rapidement, elles deviennent des cités Etats indépendants contrôlant leur campagne environnante.

Problématique : Pourquoi l'Orient ancien est-il un espace qui a vu naître les premiers Etats ?

Problématique : question que l'on se pose et à laquelle le cours va essayer de répondre

PLAN DU COURS, PROBLEMATIQUE	VOCABULAIRE	JE DOIS ETRE CAPABLE DE SAVOIR	COMPETENCES A REVOIR
<b>Introduction :</b> <i>Comment et pourquoi des premiers Etats sont apparus et quels sont leurs héritages ?</i>			
<p><b><u>I. Dossier : La cité d'Ur au III<sup>e</sup> millénaire avant J-C</u></b>  <i>Que nous apprend la cité-Etat d'Ur sur l'apparition des premiers Etats ?</i>            A. _____  <i>D'après le cas d'Ur, pourquoi les premières cités-Etats apparaissent dans la région de la Mésopotamie ?</i>            B. _____  <i>D'après le cas d'Ur, comment s'organise la société des premières cités-Etats de Mésopotamie ?</i></p>	<p>Cité-Etat Monarchie Polythéiste</p>	<p>Localiser les grands repères géographiques du Croissant fertile</p>	<p>Prélever de l'information dans des documents de nature variée</p> <p>Lire et comprendre un schéma</p> <p>Rédiger un texte bref, cohérent et ponctué, en réponse à une question ou à partir de consignes données</p>
<p><b><u>II. Les premières écritures</u></b>  <i>Quels étaient les formes et les usages des premières écritures ?</i></p>	<p>Pictogrammes Ecriture cunéiforme</p>		<p>Ecrire un petit texte avec une fiche méthode</p>
<p><b><u>Conclusion :</u></b>  <i>Pourquoi dit-on que la Mésopotamie est l'une des premières civilisations ?</i></p>	<p>Civilisation</p>		<p>Rédiger un texte bref, cohérent, ponctué en réponse à une question ou à partir de consignes données</p>

PLAN DU COURS, PROBLÉMATIQUE	VOCABULAIRE	JE DOIS ETRE CAPABLE DE SAVOIR	COMPÉTENCES À REVOIR
<p><b>Introduction :</b>  <i>Comment et pourquoi des premiers Etats sont apparus et quels sont leurs héritages ?</i></p>			
<p><b><u>I. Dossier : La cité d'Ur au III<sup>e</sup> millénaire avant J-C</u></b>  <i>Que nous apprend la cité-Etat d'Ur sur l'apparition des premiers Etats ?</i></p> <p>A. _____  <i>D'après le cas d'Ur, pourquoi les premières cités-Etats apparaissent dans la région de la Mésopotamie ?</i></p> <p>B. _____  <i>D'après le cas d'Ur, comment s'organise la société des premières cités-Etats de Mésopotamie ?</i></p>	<p>Cité-Etat  Monarchie  Polythéiste</p>	<p>Localiser les grands repères géographiques du Croissant fertile</p>	<p>Prélever de l'information dans des documents de nature variée</p> <p>Lire et comprendre un schéma</p> <p>Rédiger un texte bref, cohérent et ponctué, en réponse à une question ou à partir de consignes données</p>
<p><b><u>II. Les premières écritures</u></b>  <i>Quels étaient les formes et les usages des premières écritures ?</i></p>	<p>Pictogrammes  Ecriture cunéiforme</p>		<p>Ecrire un petit texte avec une fiche méthode</p>
<p><b><u>Conclusion :</u></b>  <i>Pourquoi dit-on que la Mésopotamie est l'une des premières civilisations ?</i></p>	<p>Civilisation</p>		<p>Rédiger un texte bref, cohérent, ponctué en réponse à une question ou à partir de consignes données</p>

# I. Dossier : La cité d'Ur au III<sup>e</sup> millénaire avant J-C.

Que nous apprend la cité-Etat d'Ur sur l'apparition des premiers Etats ?

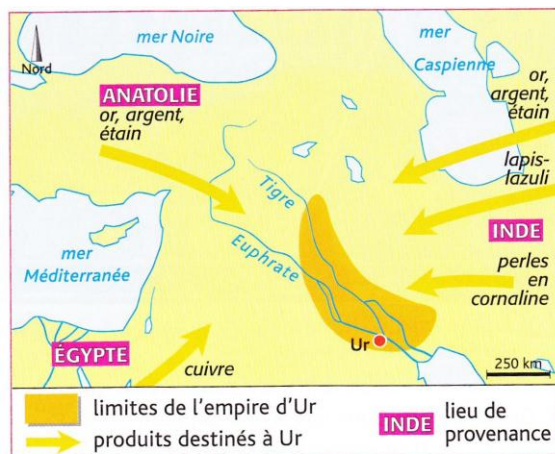
Voir fiche n°1





A. \_\_\_\_\_

~~D'après le cas d'Ur, pourquoi les premières cités Etats apparaissent dans la région de la Mésopotamie ?~~



### Doc 1 Les richesses de la Mésopotamie.

Tu remplis le canal d'une eau perpétuelle. Tu cultives l'orge dans le champ. Tu remplis l'étang de carpes et de perches. Tu fais pousser roseaux et joncs dans le marais. Tu peuples la forêt de vaches sauvages. Tu garnis les jardins et le verger de miel et de vin. Et tu accorderas au palais royal une vie prolongée.  
*D'après un chant en l'honneur de Ninurta, dieu de l'agriculture fin du III<sup>e</sup> millénaire avant J-C*

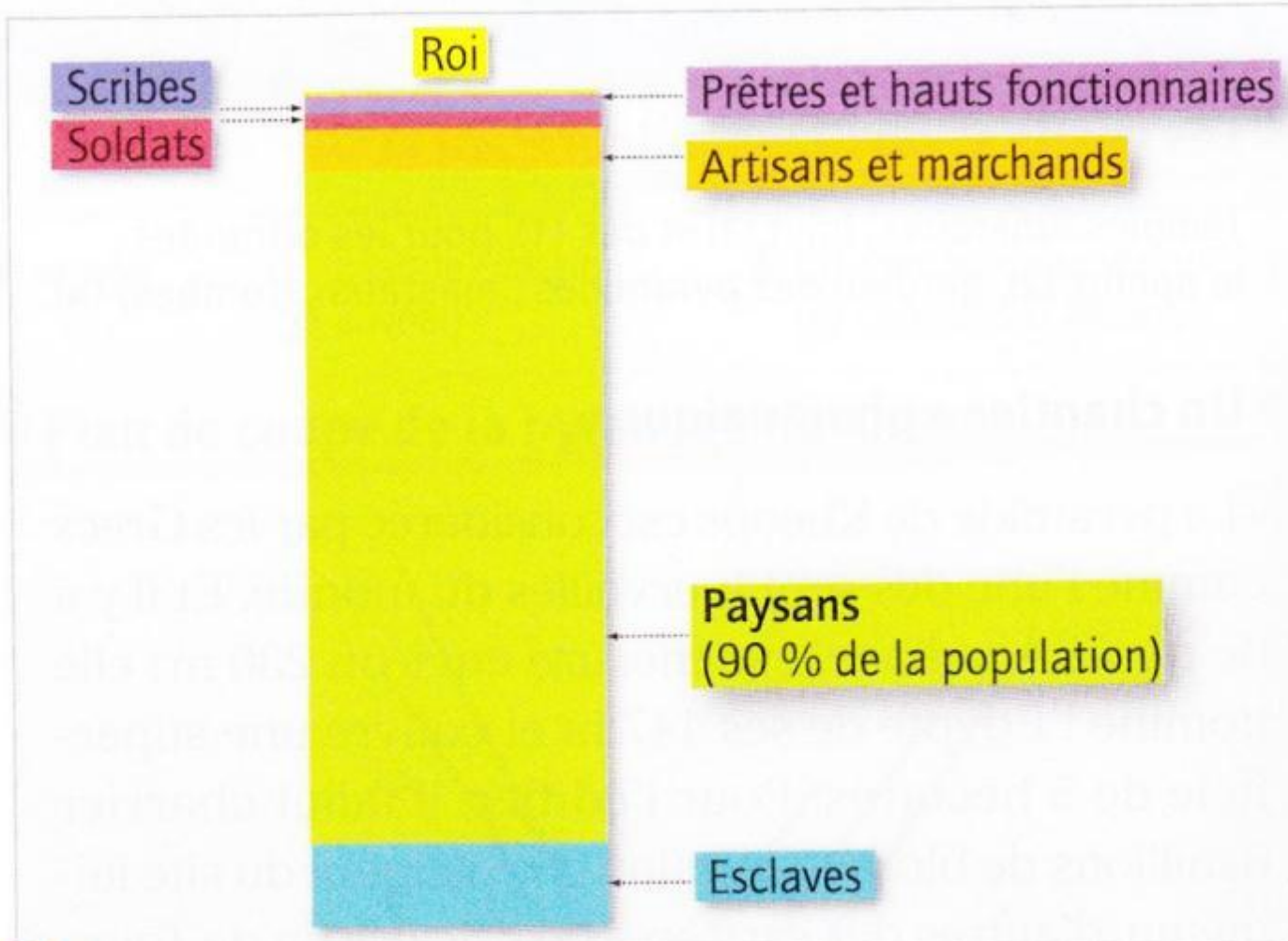
### 2 Le commerce de la cité d'Ur au III<sup>e</sup> millénaire avant J.-C.

1. L'empire d'Ur se limite-t-il à la seule ville d'Ur ? Justifie ta réponse (= donne des preuves, explique pourquoi). (Doc 2 sur la feuille)

2. Montre que la cité d'Ur se trouve dans une région agricole très riche. (Doc 1 sur la feuille)

3. Montre que la cité d'Ur est au cœur des routes commerciales de la région. (doc 2 sur la feuille)





## 2 Les sociétés dans l'Orient ancien



Croissant fertile
  tracé actuel du rivage du golfe Persique
  cités-États de Mésopotamie

**1** Le Croissant fertile au III<sup>e</sup> millénaire avant J.-C.



Réponse à la problématique (le cours) : \_\_\_\_\_

\_\_\_\_\_

\_\_\_\_\_

\_\_\_\_\_

\_\_\_\_\_

\_\_\_\_\_

MESOPOTAMIE

Tigre

\_\_\_\_\_

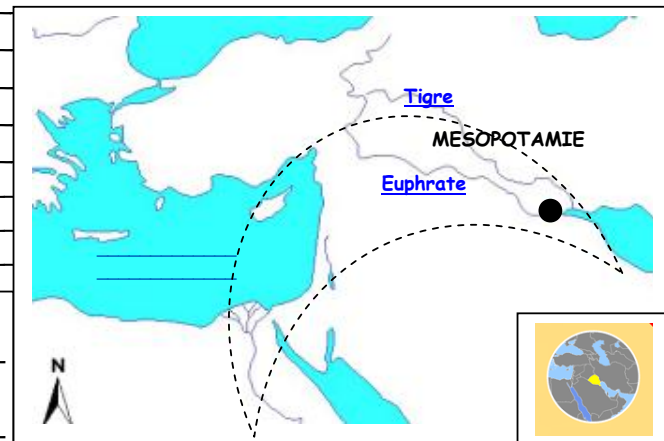
\_\_\_\_\_

Mer

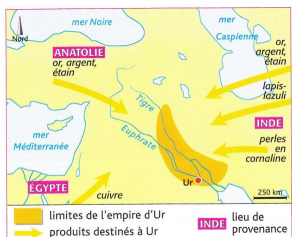
*Légende*



\_\_\_\_\_



I. D'après le cas d'Ur, pourquoi les premières cités-Etats apparaissent dans la région de la Mésopotamie ?



**Doc 1 Les richesses de la Mésopotamie.**

Tu remplis le canal d'une eau perpétuelle. Tu cultives l'orge dans le champ. Tu remplis l'étang de carpes et de perches. Tu fais pousser roseaux et juncs dans le marais. Tu peuples la forêt de vaches sauvages. Tu garnis les jardins et le verger de miel et de vin. Et tu accorderas au palais royal une vie prolongée.  
*D'après un chant en l'honneur de Ninurta, dieu de l'agriculture fin du III<sup>e</sup> millénaire avant J-C*

**2 Le commerce de la cité d'Ur au III<sup>e</sup> millénaire avant J.-C.**

A. L'empire d'Ur se limite-t-il à la seule ville d'Ur ? Justifie ta réponse (= donne des preuves, explique pourquoi). (Doc 2 sur la feuille)

B. Montre que la cité d'Ur se trouve dans une région agricole très riche. (Doc 1 sur la feuille)

C. Montre que la cité d'Ur est au cœur des routes commerciales de la région. (doc 2 sur la feuille)

Réponse à la problématique (le cours) :



II. D'après le cas d'Ur, comment s'organise la société des premières cités-Etats de Mésopotamie ?

1. Par qui l'empire d'Ur est-il gouverné (donne son titre) ? De qui détient-il son pouvoir ? (doc 4 p.17 du livre)

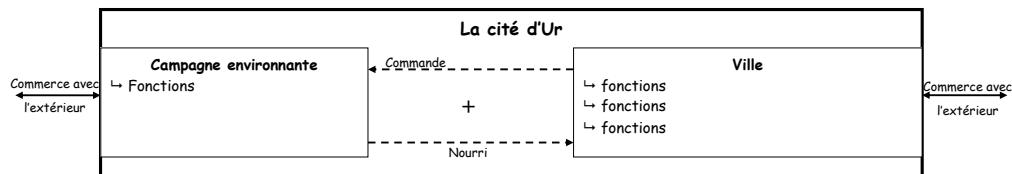
2. L'empire d'Ur est l'un des premiers Etats à maîtriser l'écriture. A ton avis, quel est l'intérêt du roi Ur-Nammu de faire inscrire cet hymne (doc 4 p.17 du livre) ?

3. Complète le tableau ci-dessous à l'aide du doc 3 p. 17 du livre et des questions préalables.

Fonction	A quelle construction est-elle associée ?	Pour qui ?
Politique (un dirigeant)		
Religieuse (des croyances)		

Réponse à la problématique (le cours) :

Pour résumé



Surligne en vert, les éléments qui montrent que la cité d'Ur est

Surligne en rose, les éléments qui montrent que la cité d'Ur

B. \_\_\_\_\_

~~D'après le cas d'Ur, comment s'organise la société des premières cités-Etats de Mésopotamie ?~~

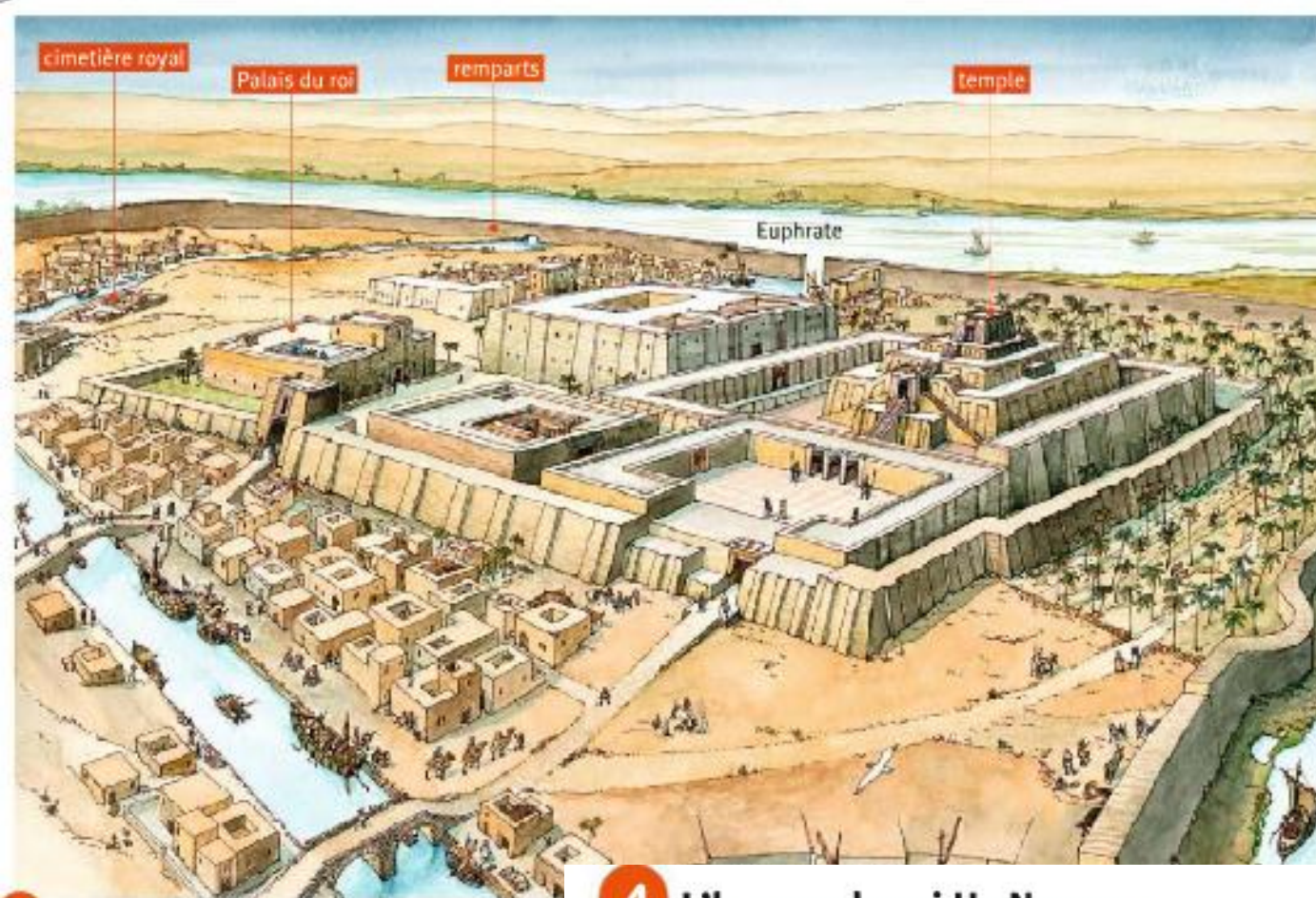
1. Par qui l'empire d'Ur est-il gouverné (donne son titre) ? De qui détient-il son pouvoir ? (doc 4 p.17 du livre)

2. L'empire d'Ur est l'un des premiers Etats à maîtriser l'écriture. A ton avis, quel est l'intérêt du roi Ur-Nammu de faire inscrire cet hymne (doc 4 p.17 du livre) ?

3. Complète le tableau ci-dessous à l'aide du doc 3 p. 17 du livre et des questions préalables.

Fonction	A quelle construction est-elle associée ?	Pour qui ?
Politique (un dirigeant)		
Religieuse (des croyances)		





3 Reconstitution de la ville d'Ur (fin du III<sup>e</sup> millén

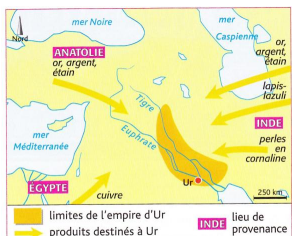
#### 4 L'hymne du roi Ur-Nammu

«Ur, cité de la destinée favorable, noble trône de la royauté, cité princière de Sumer, bâtie en un lieu pur... Je suis Ur-Nammu. Du ciel, la royauté est descendue vers moi. Uta, le dieu du soleil et de la justice, a placé le mot juste dans ma bouche. Je suis le protecteur de la ville et je veille pour mon peuple à l'abondance du bétail et à la fertilité des champs. Pour Nanna, le dieu-lune, j'ai bâti un temple.»

Extrait du texte écrit sur une tablette d'argile vers 2100 avant J.-C.

H1 Fiche n°1 La cité d'Ur au III<sup>e</sup> millénaire avant JC  
Que nous apprend la cité d'Ur sur l'apparition des 1<sup>ers</sup> Etats ?

I. \_\_\_\_\_  
D'après le cas d'Ur, pourquoi les premières cités-Etats apparaissent dans la région de la Mésopotamie ?



**Doc 1 Les richesses de la Mésopotamie.**

Tu remplis le canal d'une eau perpétuelle. Tu cultives l'orge dans le champ. Tu remplis l'étang de carpes et de perches. Tu fais pousser roseaux et juncs dans le marais. Tu peuples la forêt de vaches sauvages. Tu garnis les jardins et le verger de miel et de vin. Et tu accorderas au palais royal une vie prolongée.  
*D'après un chant en l'honneur de Ninurta, dieu de l'agriculture fin du III<sup>e</sup> millénaire avant J-C*

**2 Le commerce de la cité d'Ur au III<sup>e</sup> millénaire avant J.-C.**

A. L'empire d'Ur se limite-t-il à la seule ville d'Ur ? Justifie ta réponse (= donne des preuves, explique pourquoi). (Doc 2 sur la feuille)

B. Montre que la cité d'Ur se trouve dans une région agricole très riche. (Doc 1 sur la feuille)

C. Montre que la cité d'Ur est au cœur des routes commerciales de la région. (doc 2 sur la feuille)

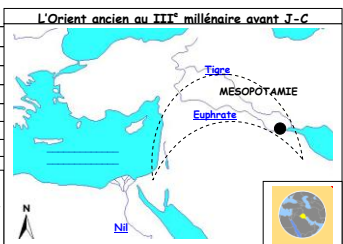
Réponse à la problématique (le cours) : \_\_\_\_\_

MESOPOTAMIE

Tigre

Mer

Légende



II. \_\_\_\_\_  
D'après le cas d'Ur, comment s'organise la société des premières cités-Etats de Mésopotamie ?

1. Par qui l'empire d'Ur est-il gouverné (donne son titre) ? De qui détient-il son pouvoir ? (doc 4 p.17 du livre)

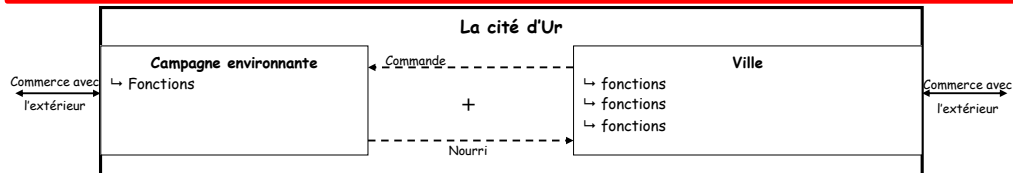
2. L'empire d'Ur est l'un des premiers Etats à maîtriser l'écriture. A ton avis, quel est l'intérêt du roi Ur-Nammu de faire inscrire cet hymne (doc 4 p.17 du livre) ?

3. Complète le tableau ci-dessous à l'aide du doc 3 p. 17 du livre et des questions préalables.

Fonction	A quelle construction est-elle associée ?	Pour qui ?
Politique (un dirigeant)		
Religieuse (des croyances)		

Réponse à la problématique (le cours) : \_\_\_\_\_

Pour résumé

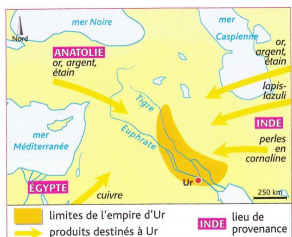


Surligne en vert, les éléments qui montrent que la cité d'Ur est

Surligne en rouge, les éléments qui montrent que la cité d'Ur



I. D'après le cas d'Ur, pourquoi les premières cités-Etats apparaissent dans la région de la Mésopotamie ?



**Doc 1 Les richesses de la Mésopotamie.**

Tu remplis le canal d'une eau perpétuelle. Tu cultives l'orge dans le champ. Tu remplis l'étang de carpes et de perches. Tu fais pousser roseaux et joncs dans le marais. Tu peuples la forêt de vaches sauvages. Tu garnis les jardins et le verger de miel et de vin. Et tu accorderas au palais royal une vie prolongée.  
*D'après un chant en l'honneur de Ninurta, dieu de l'agriculture fin du III<sup>e</sup> millénaire avant J-C*

**2 Le commerce de la cité d'Ur au III<sup>e</sup> millénaire avant J.-C.**

A. L'empire d'Ur se limite-t-il à la seule ville d'Ur ? Justifie ta réponse (= donne des preuves, explique pourquoi). (Doc 2 sur la feuille)

B. Montre que la cité d'Ur se trouve dans une région agricole très riche. (Doc 1 sur la feuille)

C. Montre que la cité d'Ur est au cœur des routes commerciales de la région. (doc 2 sur la feuille)

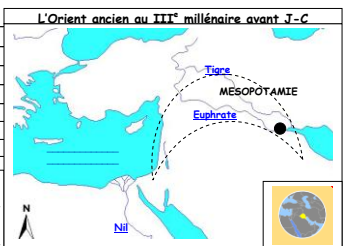
Réponse à la problématique (le cours) :

MESOPOTAMIE

Tigre

Mer

Légende



II. D'après le cas d'Ur, comment s'organise la société des premières cités-Etats de Mésopotamie ?

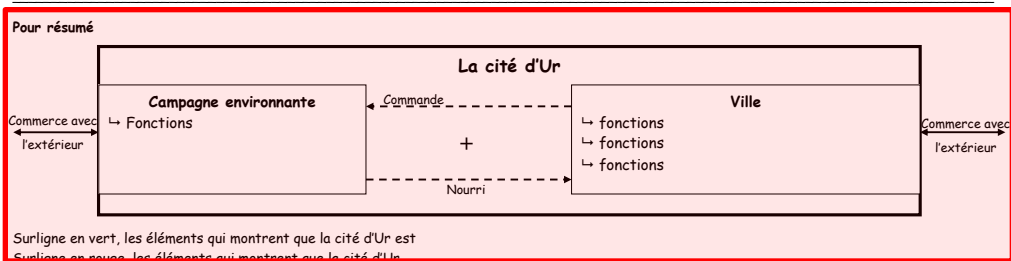
1. Par qui l'empire d'Ur est-il gouverné (donne son titre) ? De qui détient-il son pouvoir ? (doc 4 p.17 du livre)

2. L'empire d'Ur est l'un des premiers Etats à maîtriser l'écriture. A ton avis, quel est l'intérêt du roi Ur-Nammu de faire inscrire cet hymne (doc 4 p.17 du livre) ?

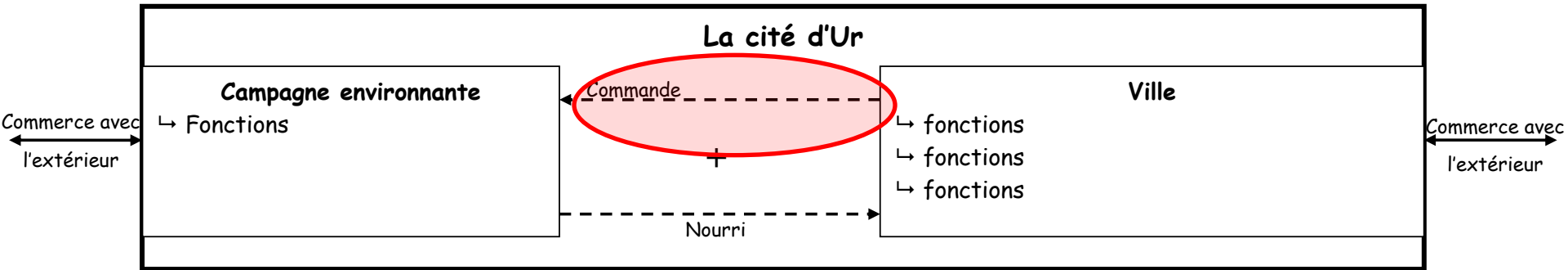
3. Complète le tableau ci-dessous à l'aide du doc 3 p. 17 du livre et des questions préalables.

Fonction	A quelle construction est-elle associée ?	Pour qui ?
Politique (un dirigeant)		
Religieuse (des croyances)		

Réponse à la problématique (le cours) :



Pour résumé



Surligne en vert, les éléments qui montrent que la cité d'Ur est  
Surligne en rouge, les éléments qui montrent que la cité d'Ur

# II. Les premières écritures

## Quels étaient les formes et les usages des premières écritures ?

*p.14 et 15 Belin*

Questions 1, 2 et 3

Raconte en quelques phrases comment sont nées les premières écritures.

Pour cela :

- Indique où et quand sont nées les premières écritures
- Explique à quoi servaient les premières écritures
- Montre que les écritures se sont simplifiées avec le passage des pictogrammes à l'écriture cunéiforme

Pictogramme : dessin représentant un objet, un être vivant ou une action

Ecriture cunéiforme : écriture composée de signes en forme de clous (elle permet d'écrire plus rapidement que les pictogrammes)



phénicien	𐤀	𐤁	𐤂	𐤃	𐤄	𐤅	𐤆	𐤇	𐤈	𐤉	𐤊	𐤋	𐤌	𐤍	𐤎	𐤏	𐤐	𐤑	𐤒	𐤓	𐤔	𐤕	𐤖	𐤗	𐤘					
grec	Α	Β	Γ	Δ	Ε		Ζ	Η	Θ	Ι	Κ	Λ	Μ	Ν	Ξ	Ο	Π			Ρ	Σ	Τ	Υ	Φ	Χ	Ψ	Ω			
nom grec	alpha	bêta	gamma	delta	epsilon		dzêta	êta	thêta	iota	kappa	lambda	mu	nu	xi	omicron	pi			rhô	sigma	tau	upsilon	phi	khi	psi	oméga			
latin	A	B	G	D	E		Z	H		I	K	L	M	N	X	O	P			R	S	T	U	F	Q					

**5 De l'alphabet phénicien à l'alphabet latin.**

1. D'après le tableau, d'où vient le mot « alphabet » ?
2. Doc. 4 et 5 Pourquoi l'alphabet est-il un progrès pour l'écriture ?

# Conclusion : Les cités-Etats de Mésopotamie, les premières civilisations

Une civilisation est une société organisée avec :

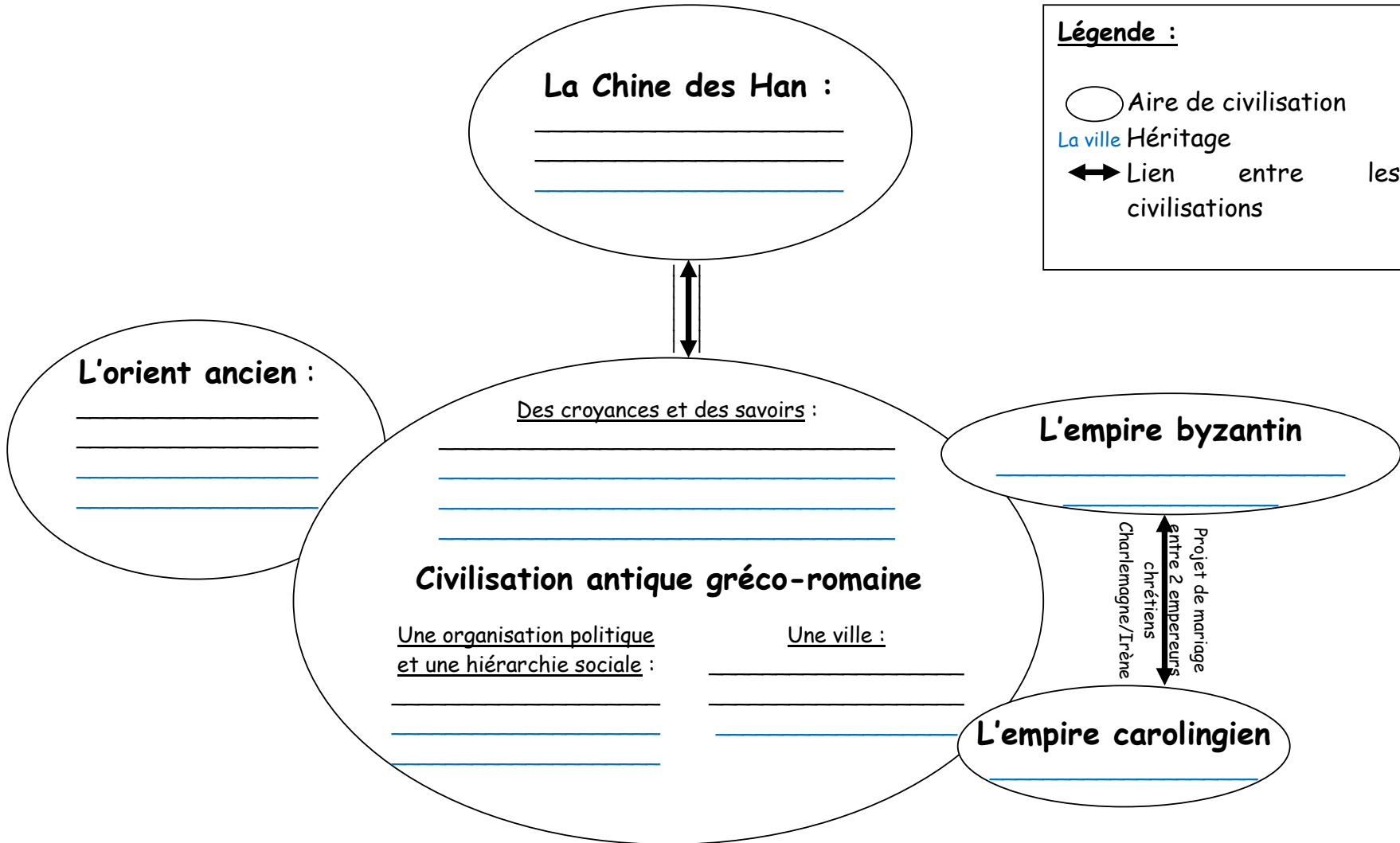
- La présence d'une ville
- Une hiérarchie sociale
- Un Etat organisé (pouvoir politique)
- Un ensemble de croyance (religion) et un savoir scientifique (écriture)

Pourquoi dit-on que la Mésopotamie est l'une des premières civilisations ?

Extrême Orient / Asie

Proche Orient

Occident



**Légende :**

- Aire de civilisation
- La ville Héritage
- ↔ Lien entre les civilisations

**La Chine des Han :**

---



---



---

**L'orient ancien :**

---



---



---



---

**Civilisation antique gréco-romaine**

Des croyances et des savoirs :

---



---



---



---

Une organisation politique et une hiérarchie sociale :

---



---



---



---

Une ville :

---



---



---



---

**L'empire byzantin**

---



---



---

**L'empire carolingien**

---



---



---

Projet de mariage entre 2 empereurs chrétiens Charlemagne/Irène

Naissance Ecriture			Rédaction Ancien Testament	Démocratie Athènes	Jules - César	Rédaction Nouveau Testament			Sanctification Charlemagne
--------------------	--	--	----------------------------	--------------------	---------------	-----------------------------	--	--	----------------------------

II<sup>e</sup> millénaire avant J-C

VIII<sup>e</sup>-VI<sup>e</sup> s. avt J-C

V<sup>e</sup> s. avt J-C

Naissance de J-C

800 après J-C

Temps

PLAN DU COURS, PROBLÉMATIQUE	VOCABULAIRE	JE DOIS ETRE CAPABLE DE SAVOIR	COMPÉTENCES À REVOIR
<p><b>Introduction :</b>  <i>Comment et pourquoi des premiers Etats sont apparus et quels sont leurs héritages ?</i></p>			
<p><b><u>I. Dossier : La cité d'Ur au III<sup>e</sup> millénaire avant J-C</u></b>  <i>Que nous apprend la cité-Etat d'Ur sur l'apparition des premiers Etats ?</i></p> <p>A. _____  <i>D'après le cas d'Ur, pourquoi les premières cités-Etats apparaissent dans la région de la Mésopotamie ?</i></p> <p>B. _____  <i>D'après le cas d'Ur, comment s'organise la société des premières cités-Etats de Mésopotamie ?</i></p>	<p>Cité-Etat  Monarchie  Polythéiste</p>	<p>Localiser les grands repères géographiques du Croissant fertile</p>	<p>Prélever de l'information dans des documents de nature variée</p> <p>Lire et comprendre un schéma</p> <p>Rédiger un texte bref, cohérent et ponctué, en réponse à une question ou à partir de consignes données</p>
<p><b><u>II. Les premières écritures</u></b>  <i>Quels étaient les formes et les usages des premières écritures ?</i></p>	<p>Pictogrammes  Ecriture cunéiforme</p>		<p>Ecrire un petit texte avec une fiche méthode</p>
<p><b><u>Conclusion :</u></b>  <i>Pourquoi dit-on que la Mésopotamie est l'une des premières civilisations ?</i></p>	<p>Civilisation</p>		<p>Rédiger un texte bref, cohérent, ponctué en réponse à une question ou à partir de consignes données</p>